

Histoire de l'architecture occidentale

Jean-Yves Antoine

<http://www.info.univ-tours.fr/~antoine/>


HISTOIRE DE L'ARCHITECTURE OCCIDENTALE

Travaux Dirigés - Baroque et Classicisme

EXERCICE 1 — BAROQUE : LOCALISATION

- Donnez une localisation approximative (Rome ou Italie du Nord, Italie du Sud, Autriche-Hongrie, Allemagne, Espagne ou Amérique Latine) des bâtiments suivants

EXERCICE 1 — EDIFICE 1



EXERCICE 1 — EDIFICE 2



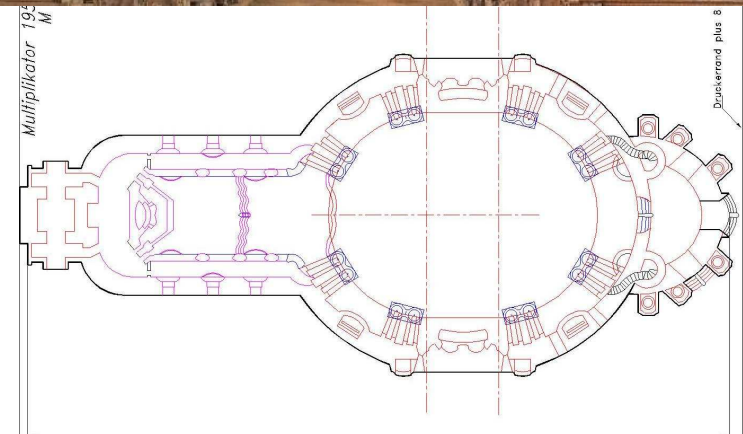
EXERCICE 1 — EDIFICE 3



EXERCICE 1 — EDIFICE 4




EXERCICE 1 — EDIFICE 5



EXERCICE 1 — EDIFICE 4



EXERCICE 1 — EDIFICE 6



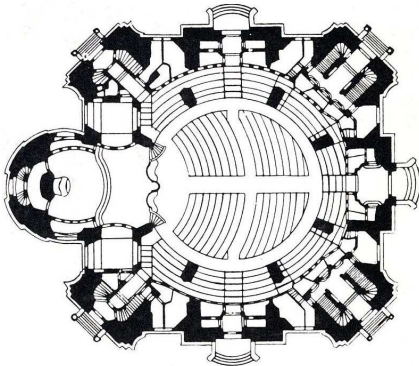

EXERCICE 1 — EDIFICE 7



EXERCICE 1 — EDIFICE 8



EXERCICE 1 — EDIFICE 9



EXERCICE 2 — BAROQUE : DATATION

A partir du Maniérisme, l'architecture occidentale a commencé à jouer avec le vocabulaire antique. Dès lors, la datation des édifices des temps modernes n'est plus si évidente que cela. Sauriez-vous rattacher les édifices suivants à une des périodes suivantes :

- Haute renaissance
- Maniérisme
- Baroque (ou HochBarock)
- Rococo (ou churrigueresque)

Et si vous le pouvez, localisez le bâtiment...

EXERCICE 2 — EDIFICE 1



EXERCICE 2 — EDIFICE 2



EXERCICE 2 — EDIFICE 3



EXERCICE 2 — EDIFICE 4



EXERCICE 2 — EDIFICE 5



EXERCICE 2 — EDIFICE 6



EXERCICE 2 — EDIFICE 7



EXERCICE 2 — EDIFICE 8



APR99